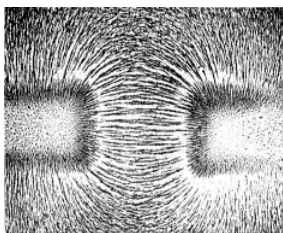




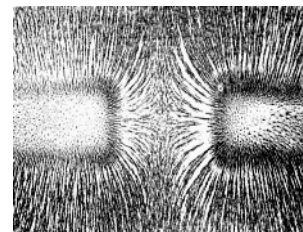
LABORATORNÍ PRÁCE č.					
Téma:	Magnetické indukční čáry				
Jméno a příjmení:			Spolupracoval:		
Datum:		Třída:		Hodnocení:	

Pokus 1:

- a) Řetězce pilin magnetického pole dvou magnetů natočených k sobě póly:
(zakroužkuj správnou možnost)

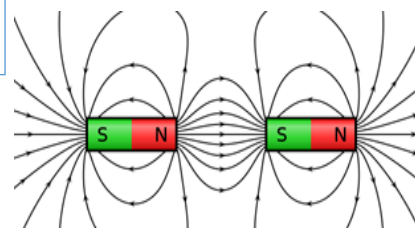
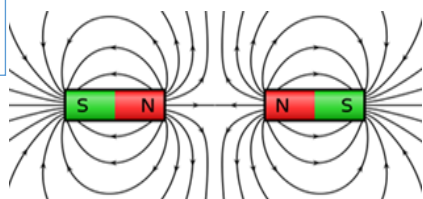


Souhlasnými/nesouhlasnými



Souhlasnými/nesouhlasnými

- b) Na obrázku jsou indukční čáry magnetického pole dvou magnetů



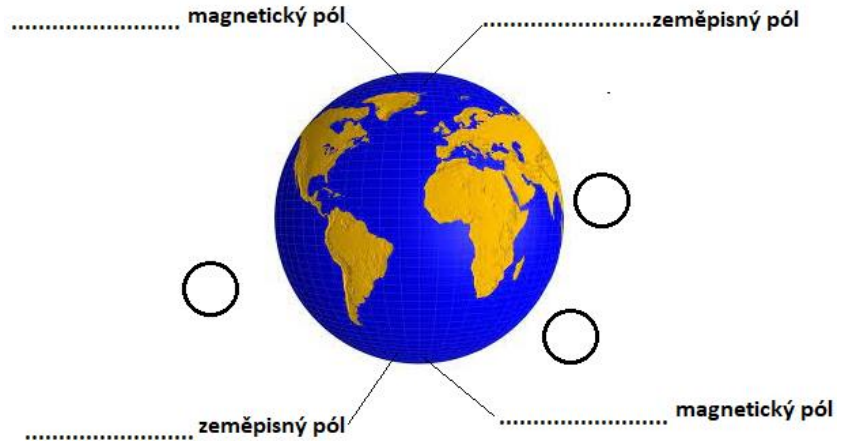
k obrázkům napiš, zda se jedná o příklad **A** nebo **B**



Pokus 2:

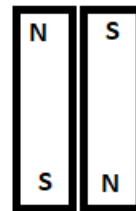
Na obrázku je znázorněno magnetické pole Země.

- doplň do obrázku názvy pólů
- doplň do prázdných kroužků správnou polohu magnetek



Pokus 3:

V kterém případě je magnetické pole největší a v kterém nejmenší?



.....

.....

.....

Pokus 4:

Kolik mincí se ti podaří zvednout pomocí magnetu?

